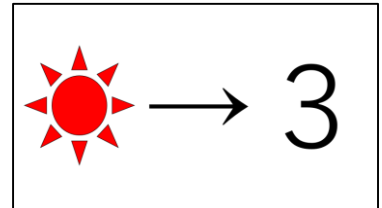
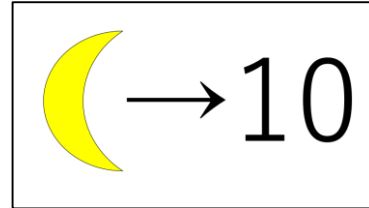
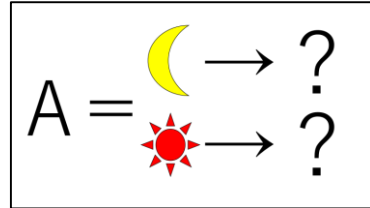


ヒントを結び合わせて、せんしゅずかんと照らし合わせると『きよたけこうき』という名前が完成する。

清武選手の背番号が答えとなり、**Z=8**



誕生日ケーキ、月→10、太陽→3とヒントがあり、太陽を『日』と考えると、10月3日が誕生日の選手が答えとなる。せんしゅずかんと照らし合わせると近藤選手の背番号が答えとなり、**A=3**

$$E = \star - _ + _$$

$$E = _ - \triangle + _$$

$$E = _ - _ + \square$$

$$\star = 8$$

$$\triangle = 3$$

$$\square = 2$$

$$F = \boxed{?} | \boxed{?} _$$

$$F = \boxed{?} _ \boxed{?} E$$

WANTED
? =
をつかまえろ!



ヒントをつなぎ合わせると、
図形の計算式が完成し、
第1ステージにあった図形の
数字を当てはめると、

$$E = 8 - 3 + 2 = 7$$

ふかいメタルを
つかまえて
手に入れる
ヒントは・・・

$$? = N$$

ヒントをつなぎ合わせ、
? にNを当てはめると

$$F = NINE = 9$$

よって第2ステージの答えは

4つのすうじをさがせ!

Z A E F

8 3 7 9