



第3ステージ 問題

じゅもんをとねえろ！


①




②




③




④



⑤



第3ステージ ヒント

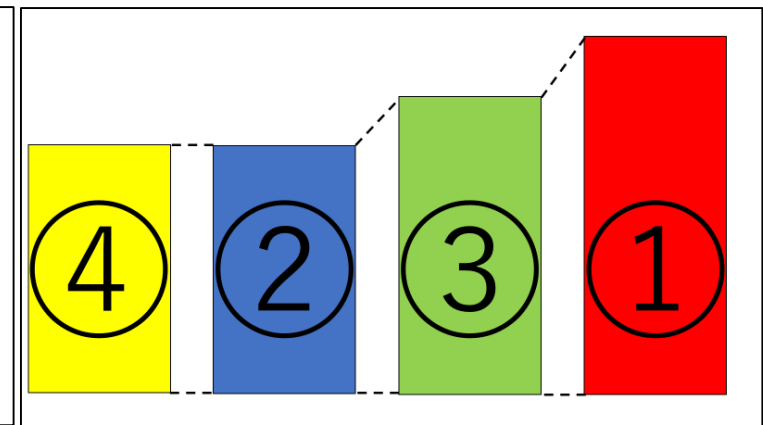


③より
① = 9さい
としようえ

② = ④と身長、
血液型がおなじ

② = 1FZE

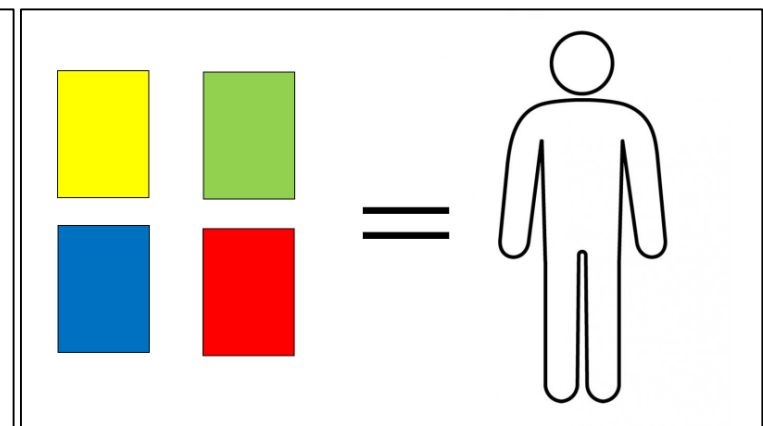
④ = 『 ” 』 × 2
『 9 』 × 4



⑤ = J 7 9 9 Y

とあるか
ず →

② = 16
③ = 24
⑤ = 11





ゆうしゃの
きゆうじつ

すうじ
えいご

4つのすうじをさがせ！

R U K I
↓ ↓ ↓ ↓
— — — —

4つのすうじをさがせ！

Z A E F
↓ ↓ ↓ ↓
— — — —

あと、うらないしが『じゅもんはすうじじゃない、すうじをへんしんさせるのだ』っておしえてくれたよ！

ここまでといたあんごうがじゅもんをみつけるためにひつようになるよ！なくさないようにきをつけてね！

『もじ』ってかくじゅんばんがきまつてるよね。ぼくのなまえはなんかいでかけるのかな？

ま	は	な	た	さ	か	あ
み	ひ	に	ち	し	き	い
む	ふ	ぬ	つ	す	く	う
め	へ	ね	て	せ	け	え
も	ほ	の	と	そ	こ	お

ずかんをよくみてみよう！ヒントとにている『もじ』『すうじ』があるかも・・・